

Series HFG1E/C



SET-1

प्रश्न-पत्र कोड
Q.P. Code **58/C/1**

रोल नं.
Roll No.

--	--	--	--	--	--	--	--

परीक्षार्थी प्रश्न-पत्र कोड को उत्तर-पुस्तिका के मुख-पृष्ठ पर अवश्य लिखें ।

Candidates must write the Q.P. Code on the title page of the answer-book.

अर्थशास्त्र ECONOMICS

निर्धारित समय : 3 घण्टे

अधिकतम अंक : 80

Time allowed : 3 hours

Maximum Marks : 80

- कृपया जाँच कर लें कि इस प्रश्न-पत्र में मुद्रित पृष्ठ **23** हैं ।
- प्रश्न-पत्र में दाहिने हाथ की ओर दिए गए प्रश्न-पत्र कोड को परीक्षार्थी उत्तर-पुस्तिका के मुख-पृष्ठ पर लिखें ।
- कृपया जाँच कर लें कि इस प्रश्न-पत्र में **34** प्रश्न हैं ।
- कृपया प्रश्न का उत्तर लिखना शुरू करने से पहले, उत्तर-पुस्तिका में प्रश्न का क्रमांक अवश्य लिखें ।
- इस प्रश्न-पत्र को पढ़ने के लिए 15 मिनट का समय दिया गया है । प्रश्न-पत्र का वितरण पूर्वाह्न में 10.15 बजे किया जाएगा । 10.15 बजे से 10.30 बजे तक छात्र केवल प्रश्न-पत्र को पढ़ेंगे और इस अवधि के दौरान वे उत्तर-पुस्तिका पर कोई उत्तर नहीं लिखेंगे ।
- Please check that this question paper contains **23** printed pages.
- Q.P. Code given on the right hand side of the question paper should be written on the title page of the answer-book by the candidate.
- Please check that this question paper contains **34** questions.
- **Please write down the serial number of the question in the answer-book before attempting it.**
- 15 minute time has been allotted to read this question paper. The question paper will be distributed at 10.15 a.m. From 10.15 a.m. to 10.30 a.m., the students will read the question paper only and will not write any answer on the answer-book during this period.

*



सामान्य निर्देश:

निम्नलिखित निर्देशों को बहुत सावधानी से पढ़िए और उनका सख्ती से पालन कीजिए:

- (i) इस प्रश्न-पत्र में 34 प्रश्न हैं। सभी प्रश्न अनिवार्य हैं।
- (ii) यह प्रश्न-पत्र दो खण्डों में विभाजित है:
खण्ड क - समष्टि अर्थशास्त्र
खण्ड ख - भारतीय आर्थिक विकास
- (iii) इस प्रश्न-पत्र में एक-एक अंक के 20 बहुविकल्पीय प्रश्न हैं।
- (iv) इस प्रश्न-पत्र में तीन-तीन अंकों के 4 लघु-उत्तरीय प्रकार-I के प्रश्न हैं जिनके उत्तर 60 से 80 शब्दों में लिखे जाने चाहिए।
- (v) इस प्रश्न-पत्र में चार-चार अंकों के 6 लघु-उत्तरीय प्रकार-II के प्रश्न हैं जिनके उत्तर 80 से 100 शब्दों में लिखे जाने चाहिए।
- (vi) इस प्रश्न-पत्र में छः-छः अंकों के 4 दीर्घ-उत्तरीय प्रकार के प्रश्न हैं जिनके उत्तर 100 से 150 शब्दों में लिखे जाने चाहिए।
- (vii) प्रत्येक प्रश्न के सभी भागों के उत्तर एक साथ लिखे जाने चाहिए।

खण्ड क

समष्टि अर्थशास्त्र

1. वास्तविक सकल घरेलू उत्पाद (Real GDP) में वृद्धि से तात्पर्य अर्थव्यवस्था में _____ से है।
(रिक्त स्थान भरने के लिए सही विकल्प का चयन कीजिए) 1

 - (a) आय के स्तर में वृद्धि
 - (b) सामान्य कीमत स्तर में वृद्धि
 - (c) वस्तुओं व सेवाओं के प्रवाह में वृद्धि
 - (d) समग्र माँग में कमी



General Instructions :

Read the following instructions carefully and strictly follow them :

- (i) This question paper contains **34** questions. **All** questions are **compulsory**.
- (ii) This question paper contains **two** Sections :
Section A – Macro Economics
Section B – Indian Economic Development
- (iii) This paper contains **20** Multiple Choice Questions Type questions of **1** mark each.
- (iv) This paper contains **4** Short Answer Questions Type-I questions of **3** marks each to be answered in 60 to 80 words.
- (v) This paper contains **6** Short Answer Questions Type-II questions of **4** marks each to be answered in 80 to 100 words.
- (vi) This paper contains **4** Long Answer Questions Type questions of **6** marks each to be answered in 100 to 150 words.
- (vii) Attempt all parts of a question together.

SECTION A

Macro Economics

1. Increase in Real Gross Domestic Product (GDP) implies _____ in the economy.

(Choose the correct alternative to fill up the blank) 1

- (a) increase in the level of income
- (b) increase in the general price level
- (c) increase in flow of goods and services
- (d) decrease in aggregate demand



2. निम्नलिखित कथनों को ध्यानपूर्वक पढ़िए :

कथन 1 : कर एक वैधानिक अनिवार्य भुगतान है।

कथन 2 : प्रत्यक्ष कर सरकार के लिए पूँजीगत प्राप्ति है।

दिए गए कथनों के आलोक में, निम्नलिखित में से सही विकल्प का चयन कीजिए :

1

- (a) कथन 1 और 2 दोनों सत्य हैं।
- (b) कथन 1 और 2 दोनों असत्य हैं।
- (c) कथन 1 सत्य है और कथन 2 असत्य है।
- (d) कथन 1 असत्य है और कथन 2 सत्य है।

3. (A) भुगतान संतुलन घाटा _____ का आधिक्य है।

(रिक्त स्थान भरने के लिए सही विकल्प का चयन कीजिए)

1

- (a) चालू खाता प्राप्ति पर चालू खाता भुगतान
- (b) पूँजी खाता प्राप्ति पर पूँजी खाता भुगतान
- (c) स्वायत्त प्राप्ति पर स्वायत्त भुगतान
- (d) समायोजन प्राप्ति पर समायोजन भुगतान

अथवा

(B) “विदेशी मुद्रा बाजार में भारतीय मुद्रा (₹) के मूल्य में गिरावट के कारण, भारतीय रिज़र्व बैंक ने भारतीय मुद्रा (₹) को क्रय करने का निर्णय लिया है।”

केंद्रीय बैंक द्वारा इस प्रकार की कार्यवाही _____ विनिमय दर प्रणाली के अंतर्गत संभव है।

(रिक्त स्थान भरने के लिए सही विकल्प का चयन कीजिए)

1

- (a) नम्य
- (b) प्रबंधित तिरती
- (c) स्थिर तिरती
- (d) स्थिर



2. Read the following statements carefully :

Statement 1 : Tax is a legally compulsory payment.

Statement 2 : Direct taxes are capital receipts of the government.

In light of the given statements, choose the correct alternative from the following :

1

- (a) Both Statements 1 and 2 are true.
- (b) Both Statements 1 and 2 are false.
- (c) Statement 1 is true and Statement 2 is false.
- (d) Statement 1 is false and Statement 2 is true.

3. (A) Balance of Payments deficit is the excess of _____.

(Choose the correct alternative to fill up the blank)

1

- (a) Current Account Payment over Current Account Receipts
- (b) Capital Account Payment over Capital Account Receipts
- (c) Autonomous Payments over Autonomous Receipts
- (d) Accommodating Payments over Accommodating Receipts

OR

(B) “Due to fall in the value of Indian currency (₹) in the foreign exchange market, the Reserve Bank of India decides to buy Indian currency (₹).”

This type of action by the Central Bank is possible under _____ exchange rate system.

(Choose the correct alternative to fill up the blank)

1

- (a) Flexible
- (b) Managed floating
- (c) Fixed floating
- (d) Fixed



4. निम्नलिखित कथनों को पढ़िए : अभिकथन (A) और कारण (R) । नीचे दिए गए विकल्पों में से सही विकल्प चुनिए :

1

अभिकथन (A) : ऋण वसूली सरकार के लिए एक राजस्व प्राप्ति है ।

कारण (R) : ऋण वसूली से सरकार की वित्तीय परिसंपत्तियों में कमी आती है ।

विकल्प :

- (a) अभिकथन (A) और कारण (R) दोनों सत्य हैं और कारण (R) अभिकथन (A) की सही व्याख्या करता है ।
- (b) अभिकथन (A) और कारण (R) दोनों सत्य हैं, लेकिन कारण (R) अभिकथन (A) की सही व्याख्या नहीं करता है ।
- (c) अभिकथन (A) सत्य है, लेकिन कारण (R) असत्य है ।
- (d) अभिकथन (A) असत्य है, लेकिन कारण (R) सत्य है ।
5. (A) यदि एक राष्ट्र ₹ 600 करोड़ की वस्तुओं का निर्यात करता है तथा ₹ 450 करोड़ की वस्तुओं का आयात करता है, उस राष्ट्र को व्यापार शेष (BoT) के मूल्य में _____ होगा ।

(रिक्त स्थान भरने के लिए सही विकल्प का चयन कीजिए)

1

- (a) ₹ 150 करोड़ का घाटा (b) ₹ 150 करोड़ का अधिशेष
- (c) ₹ 1,150 करोड़ का घाटा (d) ₹ 1,150 करोड़ का अधिशेष

अथवा

- (B) विदेशों से भारतीय अर्थव्यवस्था को प्रेषण भुगतान संतुलन के _____ खाते के _____ पक्ष में लिखा जाएगा ।

(रिक्त स्थान भरने के लिए सही विकल्प का चयन कीजिए)

1

- (a) चालू, क्रेडिट (b) पूँजी, क्रेडिट
- (c) चालू, डेबिट (नामे) (d) पूँजी, डेबिट (नामे)

6. एक ऐसा कर जिसका भार दूसरों पर हस्तांतरित नहीं किया जा सकता है, आमतौर पर _____ पर लगाया जाता है ।

(रिक्त स्थान भरने के लिए सही विकल्प का चयन कीजिए)

1

- (a) वस्तुओं के विनिर्माता
- (b) वस्तुओं के विक्रेता
- (c) वस्तुओं के खरीददार
- (d) आय कमाने वाले



4. Read the following statements : Assertion (A) and Reason (R). Choose the correct alternative from those given below : 1

Assertion (A) : Recovery of loans is a revenue receipt for the government.

Reason (R) : Recovery of loans leads to decline in financial assets of the government.

Alternatives :

- (a) Both Assertion (A) and Reason (R) are true and Reason (R) is the correct explanation of the Assertion (A).
- (b) Both Assertion (A) and Reason (R) are true, but Reason (R) is **not** the correct explanation of the Assertion (A).
- (c) Assertion (A) is true, but Reason (R) is false.
- (d) Assertion (A) is false, but Reason (R) is true.
5. (A) If a country exports goods worth ₹ 600 crore and imports goods worth ₹ 450 crore, the value of Balance of Trade of the country would be in _____.

(Choose the correct alternative to fill up the blank) 1

- (a) deficit of ₹ 150 crore (b) surplus of ₹ 150 crore
- (c) deficit of ₹ 1,150 crore (d) surplus of ₹ 1,150 crore

OR

- (B) Remittances to Indian economy from abroad would be entered on _____ side of _____ account of Balance of Payment.

(Choose the correct alternative to fill up the blanks) 1

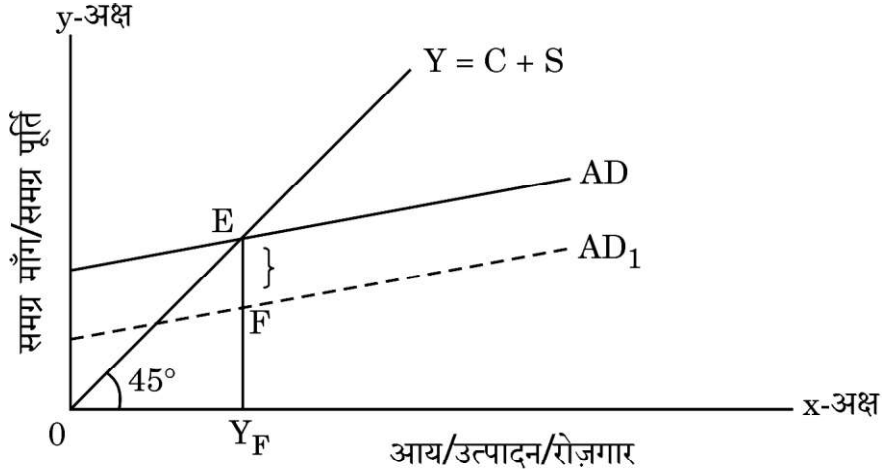
- (a) credit, current (b) credit, capital
- (c) debit, current (d) debit, capital

6. A tax whose burden cannot be shifted to others is imposed generally on _____ . (Choose the correct alternative to fill up the blank) 1

- (a) producer of goods
- (b) seller of goods
- (c) buyer of goods
- (d) income earners



7.



दी गई आकृति में, अंतराल 'EF' क्या प्रदर्शित करता है ?

(सही विकल्प का चयन कीजिए)

1

- (a) अवस्फीतिकारी अंतराल
- (b) स्फीतिकारी अंतराल
- (c) अधिमाँग
- (d) पूर्ण रोज़गार संतुलन

केवल दृष्टिबाधित परीक्षार्थियों के लिए :

यदि किसी अर्थव्यवस्था में वास्तविक समग्र माँग, पूर्ण रोज़गार स्तर को बनाए रखने के लिए आवश्यक माँग से कम हो, तो ऐसी स्थिति को _____ के नाम से जाना जाता है।

(रिक्त स्थान भरने के लिए सही विकल्प का चयन कीजिए)

1

- (a) अवस्फीतिकारी अंतराल
- (b) स्फीतिकारी अंतराल
- (c) अधिमाँग
- (d) पूर्ण रोज़गार संतुलन

8. अर्थव्यवस्था में निवेश को प्रोत्साहित करने के लिए केंद्रीय बैंक _____ कर सकता है।

(रिक्त स्थान भरने के लिए सही विकल्प का चयन कीजिए)

1

- (a) नकद आरक्षित अनुपात को कम
- (b) नकद आरक्षित अनुपात में वृद्धि
- (c) बैंक दर में वृद्धि
- (d) सरकारी प्रतिभूतियों को खुले बाज़ार में विक्रय

9. औसत उपभोग प्रवृत्ति से तात्पर्य _____ ।

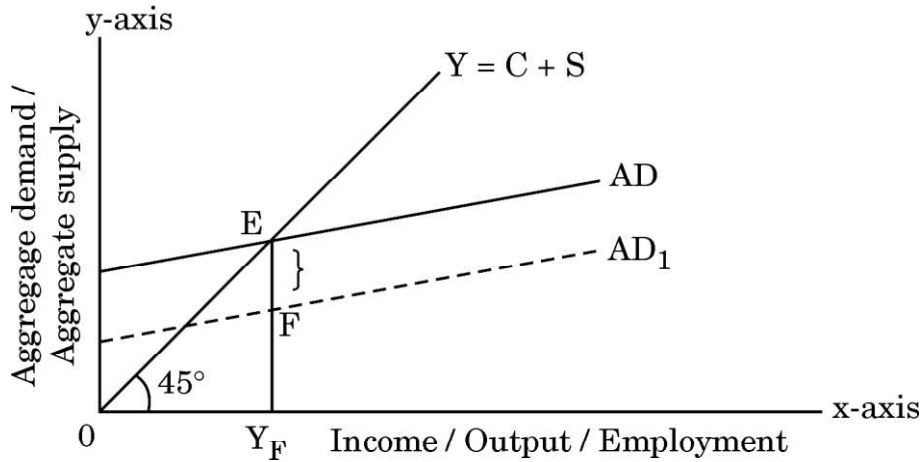
(रिक्त स्थान भरने के लिए सही विकल्प का चयन कीजिए)

1

- (a) आय के उस स्तर से है, जिस पर आय व बचत समान होते हैं
- (b) उस अतिरिक्त आय से है जिसकी बचत नहीं की गई हो
- (c) बचत व आय के अनुपात से है
- (d) उपभोग व आय के अनुपात से है



7.



In the given figure, what does the gap 'EF' represent ?

(Choose the correct alternative) 1

- (a) Deflationary gap
- (b) Inflationary gap
- (c) Excess demand
- (d) Full employment equilibrium

For Visually Impaired Candidates Only :

If in an economy, actual aggregate demand falls short of demand required to maintain the full employment level, such a situation would be known as _____. (Choose the correct alternative to fill up the blank) 1

- (a) Deflationary gap
- (b) Inflationary gap
- (c) Excess demand
- (d) Full employment equilibrium

8. In order of encourage investments in the economy, the Central Bank may _____. (Choose the correct alternative to fill up the blank) 1

- (a) reduce Cash Reserve Ratio
- (b) increase Cash Reserve Ratio
- (c) increase Bank Rate
- (d) sell off government securities in open market

9. Average Propensity to Consume refers to _____. (Choose the correct alternative to fill up the blank) 1

- (a) level of income at which savings are equal to income
- (b) additional income that is not saved
- (c) ratio of savings to the income
- (d) ratio of consumption to the income



10. निम्नलिखित कथनों को ध्यानपूर्वक पढ़िए :

कथन 1 : प्रत्याशित बचत नियोजित बचत के मूल्य को दर्शाती है।

कथन 2 : बचत प्रत्यक्ष रूप से राष्ट्रीय आय के स्तर से संबंधित होती है।

दिए गए कथनों के आलोक में निम्नलिखित में से सही विकल्प का चयन कीजिए :

1

- (a) कथन 1 और 2 दोनों सत्य हैं।
- (b) कथन 1 और 2 दोनों असत्य हैं।
- (c) कथन 1 सत्य है और कथन 2 असत्य है।
- (d) कथन 1 असत्य है और कथन 2 सत्य है।

11. (A) मान लीजिए कि, किसी अर्थव्यवस्था में, 2019 – 20 में बाजार मूल्य पर सकल घरेलू उत्पाद (GDP) ₹ 5,000 करोड़, राष्ट्रीय आय ₹ 3,500 करोड़, अर्थव्यवस्था द्वारा शेष विश्व को भुगतान की गई शुद्ध कारक आय ₹ 450 करोड़ तथा शुद्ध अप्रत्यक्ष कर ₹ 400 करोड़ थी। उपर्युक्त जानकारी के द्वारा अर्थव्यवस्था के लिए अचल पूँजी उपभोग के मूल्य का अनुमान लगाइए।

3

अथवा

(B) उत्पादन विधि द्वारा राष्ट्रीय आय का आकलन करते समय ली जाने वाली किन्हीं तीन सावधानियों का उल्लेख कीजिए।

3

12. निम्नलिखित आँकड़ों से, राजस्व घाटे व प्राथमिक घाटे की गणना कीजिए :

3

क्रम संख्या	विवरण	राशि (₹ करोड़ में)
i.	कर राजस्व	47
ii.	पूँजीगत प्राप्तियाँ	34
iii.	गैर-कर राजस्व	10
iv.	ऋण	32
v.	राजस्व व्यय	80
vi.	ब्याज भुगतान	20



10. Read the following statements carefully :

Statement 1 : Ex-ante savings represent value of planned savings.

Statement 2 : Savings are directly related to the level of national income.

In light of the given statements, choose the correct alternative from following :

1

- (a) Both Statements 1 and 2 are true.
- (b) Both Statements 1 and 2 are false.
- (c) Statement 1 is true and Statement 2 is false.
- (d) Statement 1 is false and Statement 2 is true.

11. (A) Suppose in an imaginary economy, Gross Domestic Product (GDP) at market price in 2019 – 20 was ₹ 5,000 crore, National Income was ₹ 3,500 crore, Net Factor Income paid by the economy to rest of the world was ₹ 450 crore and the Net Indirect Taxes was ₹ 400 crore.

Estimate the value of consumption of fixed capital for the economy from the information given above.

3

OR

(B) State any three precautions that are taken while estimating national income by production method.

3

12. From the following data, calculate Revenue deficit and Primary deficit :

3

S.No.	Particulars	Amount (in ₹ crore)
i.	Tax revenue	47
ii.	Capital receipts	34
iii.	Non-tax revenue	10
iv.	Borrowings	32
v.	Revenue expenditure	80
vi.	Interest payments	20



13. (A) निम्नलिखित का अर्थ लिखिए :
 (i) निवेश गुणक 2
 (ii) पूर्ण रोज़गार 2
 अथवा
 (B) यदि प्रत्याशित समग्र माँग (AD) प्रत्याशित समग्र पूर्ति (AS) से कम है, तो समायोजन तंत्र की व्याख्या कीजिए। 4
14. एक अर्थव्यवस्था के निम्नलिखित आँकड़ों द्वारा गणना कीजिए : 4
 (a) राष्ट्रीय आय के संतुलन स्तर की
 (b) राष्ट्रीय आय के संतुलन स्तर पर कुल उपभोग व्यय की
 (i) $C = 200 + 0.75 Y$, जहाँ C = उपभोग, Y = आय
 (ii) निवेश व्यय (I_0) = ₹ 4,000 करोड़
15. विदेशी मुद्रा आपूर्ति के किन्हीं दो स्रोतों की व्याख्या कीजिए। 4
16. (A) (i) घरेलू आय का अर्थ लिखिए। 2
 (ii) आय का वितरण किस प्रकार अर्थव्यवस्था में कल्याण को प्रभावित करता है ? संक्षेप में चर्चा कीजिए। 4
 अथवा
 (B) निम्नलिखित आँकड़ों से यह दर्शाइए कि, साधन लागत पर शुद्ध मूल्य वृद्धि साधन आय के योगफल के बराबर है : 6

क्रम संख्या	विवरण	राशि (₹ करोड़ में)
i.	स्थायी पूँजी का उपभोग	90
ii.	कच्चे माल का आयात	120
iii.	स्टॉक में परिवर्तन	240
iv.	वस्तु व सेवा कर	60
v.	घरेलू बिक्री	2,160
vi.	वितरित लाभ	180
vii.	प्रतिधारित आय	120
viii.	कच्चे माल का क्रय	840
ix.	निर्यात	240
x.	किराया व रॉयल्टी	90
xi.	कर्मचारियों का पारिश्रमिक	720
xii.	ब्याज	540



13. (A) State the meaning of the following :
- (i) Investment multiplier 2
- (ii) Full employment 2

OR

- (B) Describe the adjustment mechanism, if ex-ante aggregate demand (AD) is less than ex-ante aggregate supply (AS). 4

14. From the following data about an economy, calculate : 4

- (a) Equilibrium level of national income
- (b) Total consumption expenditure at equilibrium level of national income
- (i) $C = 200 + 0.75 Y$, where C = Consumption, Y = Income
- (ii) Investment expenditure (I_0) = ₹ 4,000 crore

15. Explain two sources of supply of foreign exchange. 4

16. (A) (i) State the meaning of domestic income. 2
- (ii) Discuss briefly how distribution of income affects the welfare of an economy. 4

OR

- (B) From the following data show that, Net Value Added at factor cost (NVA_{FC}) is equal to the sum of factor income : 6

S.No.	Particulars	Amount (in ₹ crore)
i.	Consumption of fixed capital	90
ii.	Imports of raw material	120
iii.	Change in stock	240
iv.	Goods and Services Tax	60
v.	Domestic sales	2,160
vi.	Distributed profits	180
vii.	Retained earnings	120
viii.	Purchase of raw material	840
ix.	Exports	240
x.	Rent and Royalty	90
xi.	Compensation of employees	720
xii.	Interest	540



17. (i) “भारतीय रिज़र्व बैंक (RBI) के गवर्नर के द्वारा 4 मई, 2022 को की गई घोषणा के अनुसार, नकद आरक्षित अनुपात (CRR) को 50 आधार अंक की वृद्धि द्वारा 4% से बढ़ाकर 4.5% कर दिया गया है।”
RBI के इस कदम का अर्थव्यवस्था में कुल ऋण सृजन पर पड़ने वाले प्रभाव का विश्लेषण कीजिए। 3
- (ii) मुद्रा के ‘मूल्य संचय (Store of Value)’ कार्य की व्याख्या कीजिए। 3

खण्ड ख

भारतीय आर्थिक विकास

18. निम्नलिखित कथनों को ध्यानपूर्वक पढ़िए :
- कथन 1 : 1991 के आर्थिक सुधारों ने सभी क्षेत्रों के लिए एक साथ विकास पथ का निर्माण किया था।
कथन 2 : 1991 के आर्थिक सुधारों ने कृषि क्षेत्र में तीव्र वृद्धि दर सुनिश्चित की थी।
दिए गए कथनों के आलोक में निम्नलिखित में से सही विकल्प का चयन कीजिए : 1
- (a) कथन 1 सत्य है और कथन 2 असत्य है।
(b) कथन 1 असत्य है और कथन 2 सत्य है।
(c) कथन 1 और 2 दोनों सत्य हैं।
(d) कथन 1 और 2 दोनों असत्य हैं।
19. (i) एक ऐसी व्यवस्था जिसमें श्रमिक अपने स्वयं के संसाधनों द्वारा जीविकोपार्जन करता है, उसे _____ रोज़गार के रूप में जाना जाता है।
(रिक्त स्थान भरने के लिए सही विकल्प का चयन कीजिए) 1
- (a) स्व (b) नियमित-वेतनभोगी
(c) आकस्मिक (d) मज़दूरी
- अथवा
- (ii) भूमि स्वामी रोहन, वर्ष में केवल दो फ़सल उगाता है। वह 8–9 माह कार्यरत रहता है तथा शेष वर्ष में बेरोज़गार।
वर्ष के बाकी महीनों में, रोहन _____ बेरोज़गारी का सामना करता है।
(रिक्त स्थान भरने के लिए सही विकल्प का चयन कीजिए) 1
- (a) प्रच्छन्न (b) मौसमी
(c) घर्षण (d) चक्रीय



-
17. (i) “As per announcement made by the Governor of the Reserve Bank of India (RBI) on May 4, 2022, it has been decided to increase the Cash Reserve Ratio (CRR) by 50 basis points from 4% to 4.5%.
Analyse the impact of this step of RBI on total credit creation in the economy. 3
- (ii) Explain the ‘Store of Value’ function of money. 3

SECTION B

Indian Economic Development

18. Read the following statements carefully :
- Statement 1 :* Economic reforms of 1991 created a growth path for all the sectors simultaneously.
- Statement 2 :* Economic reforms of 1991 ensured accelerated growth rate in agriculture sector.
- In light of the given statements, choose the correct alternative from following : 1
- (a) Statement 1 is true and Statement 2 is false.
(b) Statement 1 is false and Statement 2 is true.
(c) Both Statements 1 and 2 are true.
(d) Both Statements 1 and 2 are false.
19. (i) An arrangement in which a worker uses his own resources to make a living is known as _____ employment. 1
- (Choose the correct alternative to fill up the blank)
- (a) Self (b) Regular-salaried
(c) Casual (d) Wage

OR

- (ii) Rohan, the owner of a land, grows only two crops in a year. He works for 8 – 9 months and for the rest of the year he remains unemployed.
In the remaining part of the year, Rohan faces _____ unemployment. 1
- (Choose the correct alternative to fill up the blank)
- (a) Disguised (b) Seasonal
(c) Frictional (d) Cyclical



20. निम्नलिखित में से क्या, 1991 तक भारत की आर्थिक योजना के अंतर्गत अपनाई गई आर्थिक नीतियों की विशेषता **नहीं** है ? (सही विकल्प का चयन कीजिए) 1
- (a) आयात प्रतिस्थापन
 (b) आत्मनिर्भरता
 (c) विदेशी पूँजी का अप्रतिबंधित प्रवाह
 (d) भूमि सुधार
21. भारत सरकार ने 'शिक्षा के अधिकार' को _____ वर्ष के आयु वर्ग के सभी बच्चों के लिए मौलिक अधिकार के रूप में अधिनियमित किया था। (रिक्त स्थान भरने के लिए सही विकल्प का चयन कीजिए) 1
- (a) 6 – 14 (b) 6 – 12
 (c) 5 – 13 (d) 5 – 14
22. निम्नलिखित कथनों को ध्यानपूर्वक पढ़िए :
- कथन 1 : मानव पूँजी से केवल व्यक्तियों को लाभ होता है, समाज को नहीं।
 कथन 2 : समाज के रूप में मानव पूँजी में निवेश से सकारात्मक बाह्यताएँ प्राप्त होती हैं।
 दिए गए कथनों के आलोक में, निम्नलिखित में से सही विकल्प का चयन कीजिए : 1
- (a) कथन 1 सत्य है और कथन 2 असत्य है।
 (b) कथन 1 असत्य है और कथन 2 सत्य है।
 (c) कथन 1 और 2 दोनों सत्य हैं।
 (d) कथन 1 और 2 दोनों असत्य हैं।
23. “कृषि क्षेत्र पर अति-निर्भरता कम करने के लिए विविधीकरण के विकल्प का चयन आवश्यक है।”
 दिए गए कथन के संदर्भ में, विविधीकरण में _____ शामिल है। (रिक्त स्थान भरने के लिए सही विकल्प का चयन कीजिए) 1
- (i) फ़सलों के ढाँचे में परिवर्तन
 (ii) कृषि-संबंधी गतिविधियों में कार्यबल का हस्तांतरण
 (iii) गैर-कृषि क्षेत्र में कार्यबल का हस्तांतरण
- विकल्प :
- (a) (i) और (ii) (b) (i), (ii) और (iii)
 (c) (i) और (iii) (d) केवल (i)



20. Which of the following is **not** the feature of economic policies pursued under economic planning of India till 1991 ?

(Choose the correct alternative) 1

- (a) Import substitution
- (b) Self-reliance
- (c) Unrestricted flow of foreign capital
- (d) Land reforms

21. The Government of India enacted the 'Right to Education' as a fundamental right for all children in the age group of _____ years.

(Choose the correct alternative to fill up the blank) 1

- (a) 6 – 14
- (b) 6 – 12
- (c) 5 – 13
- (d) 5 – 14

22. Read the following statements carefully :

Statement 1 : Human capital benefits only individuals and not the society.

Statement 2 : There are positive externalities of investment in human capital as society.

In light of the given statements, choose the correct alternative from following :

1

- (a) Statement 1 is true and Statement 2 is false.
- (b) Statement 1 is false and Statement 2 is true.
- (c) Both Statements 1 and 2 are true.
- (d) Both Statements 1 and 2 are false.

23. "In order to reduce over-dependence on agriculture sector, it is necessary to opt for diversification."

With reference to the given statement, diversification includes _____.

(Choose the correct alternative to fill up the blank) 1

- (i) Change in cropping pattern
- (ii) Shift of workforce to agriculture allied activities
- (iii) Shift of workforce to non-agriculture sector

Alternatives :

- (a) (i) and (ii)
- (b) (i), (ii) and (iii)
- (c) (i) and (iii)
- (d) Only (i)



24. (i) निम्नलिखित कथनों को पढ़िए : अभिकथन (A) और कारण (R) । नीचे दिए गए विकल्पों में से सही विकल्प चुनिए :

1

अभिकथन (A) : चीन की जीवन प्रत्याशा विश्व में सर्वाधिक है ।

कारण (R) : भारत में मातृ मृत्यु-दर चीन की तुलना में अधिक है ।

विकल्प :

- (a) अभिकथन (A) और कारण (R) दोनों सत्य हैं और कारण (R) अभिकथन (A) की सही व्याख्या करता है ।
- (b) अभिकथन (A) और कारण (R) दोनों सत्य हैं, लेकिन कारण (R) अभिकथन (A) की सही व्याख्या नहीं करता है ।
- (c) अभिकथन (A) सत्य है, लेकिन कारण (R) असत्य है ।
- (d) अभिकथन (A) असत्य है, लेकिन कारण (R) सत्य है ।

अथवा

- (ii) चीन ने चरणबद्ध विधि में सुधार शुरू किए थे । दूसरे व तत्पश्चात चरणों में _____ क्षेत्र में सुधार शुरू किए गए थे । (रिक्त स्थान भरने के लिए सही विकल्प का चयन कीजिए)

1

- (a) कृषि
- (b) औद्योगिक
- (c) विदेशी व्यापार
- (d) जनसांख्यिकीय

25. 1970 के दशक में, पाकिस्तान ने _____ वस्तुओं से संबंधित उद्योगों को राष्ट्रीयकृत किया था ।

(रिक्त स्थान भरने के लिए सही विकल्प का चयन कीजिए)

1

- (a) उपभोक्ता
- (b) खेल-कूद
- (c) पूँजीगत
- (d) रक्षा



-
24. (i) Read the following statements : Assertion (A) and Reason (R).
Choose the correct alternative from those given below : 1

Assertion (A) : China has the highest life expectancy in the world.

Reason (R) : Maternal Mortality Rate of India is higher than that of China.

Alternatives :

- (a) Both Assertion (A) and Reason (R) are true and Reason (R) is the correct explanation of the Assertion (A).
- (b) Both Assertion (A) and Reason (R) are true, but Reason (R) is **not** the correct explanation of the Assertion (A).
- (c) Assertion (A) is true, but Reason (R) is false.
- (d) Assertion (A) is false, but Reason (R) is true.

OR

- (ii) In China, reforms were introduced in phased manner. In the second and later phases, reforms were introduced in _____ sector.

(Choose the correct alternative to fill up the blank) 1

- (a) Agriculture
- (b) Industrial
- (c) Foreign Trade
- (d) Demographic

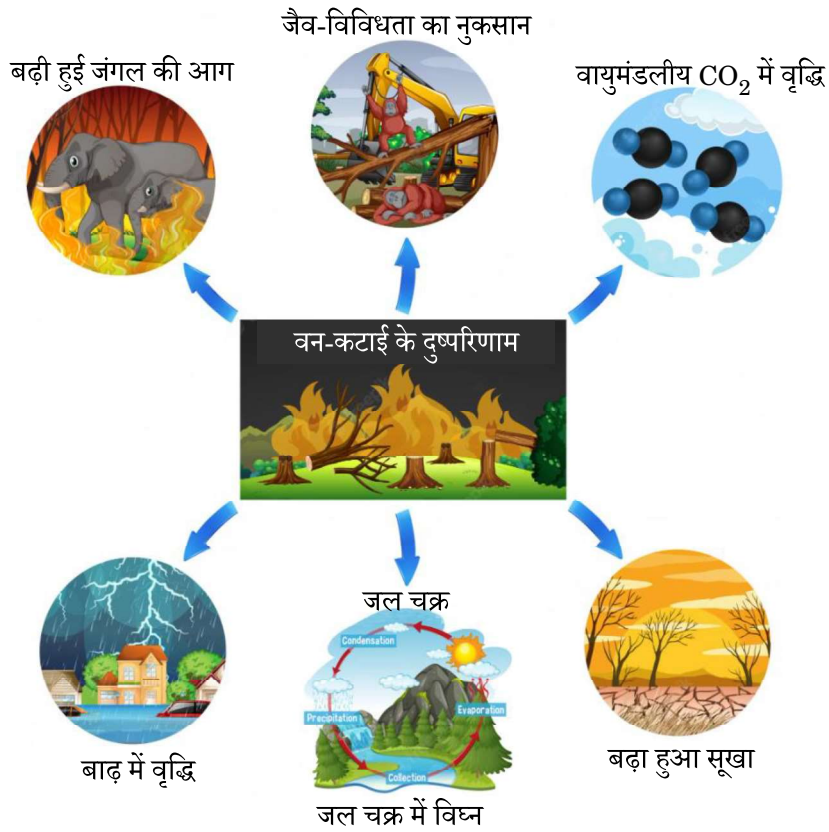
25. In the 1970s, Pakistan nationalised the industries related to _____ goods.

(Choose the correct alternative to fill up the blank) 1

- (a) Consumer
- (b) Sports
- (c) Capital
- (d) Defence



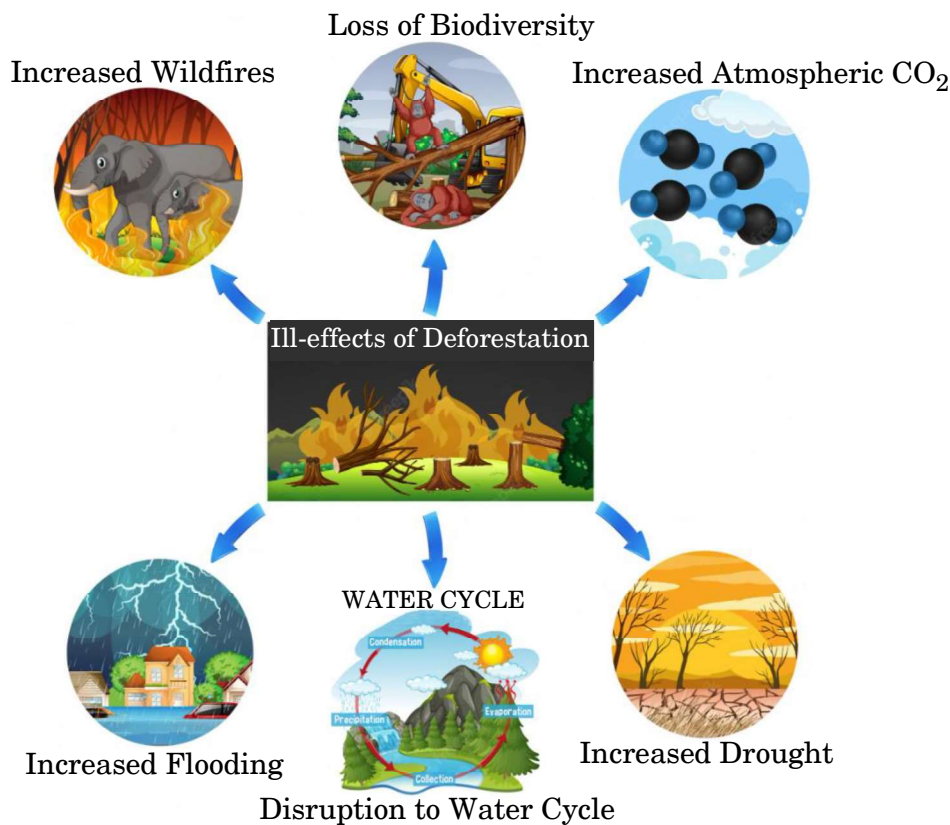
26. भारत निम्नलिखित में से किस क्षेत्रीय/वैश्विक आर्थिक समूह का सदस्य **नहीं** है ?
(सही विकल्प का चयन कीजिए) 1
- (a) सार्क (SAARC) (b) ब्रिक्स (BRICS)
(c) G-7 (d) G-20
27. सकल घरेलू उत्पाद (GDP) में क्षेत्रीय योगदान के संदर्भ में, भारत की अर्थव्यवस्था _____ क्षेत्र पर अधिक निर्भर है।
(रिक्त स्थान भरने के लिए सही विकल्प का चयन कीजिए) 1
- (a) प्राथमिक (b) द्वितीयक
(c) तृतीयक (d) वित्तीय
28. दिए गए चित्र में दर्शाए, वन-कटाई के किन्हीं दो दुष्परिणामों की व्याख्या कीजिए। 3



29. (A) “आकस्मिक मजदूर प्रायः अत्यंत खराब कामकाजी परिस्थितियों में कार्य करते हैं।” दिए गए कथन का औचित्य सिद्ध कीजिए। 3
अथवा
- (B) कृषि विपणन तंत्र में बाधा उत्पन्न करने वाली किन्हीं दो बाधाओं का उल्लेख व चर्चा कीजिए। 3



26. India is **not** a member of which of the following regional/global economic groups ? (Choose the correct alternative) 1
- (a) SAARC (b) BRICS
(c) G-7 (d) G-20
27. In terms of the sectoral contribution to Gross Domestic Product (GDP), economy of India is relying more on _____ sector. (Choose the correct alternative to fill up the blank) 1
- (a) Primary (b) Secondary
(c) Tertiary (d) Financial
28. Elaborate any two ill-effects of Deforestation as depicted in the given picture. 3



29. (A) "Casual workers often work in very poor working conditions." Justify the given statement. 3
- OR**
- (B) State and discuss any two obstacles that hinder the mechanism of agricultural marketing. 3



30. (A) व्याख्या कीजिए कि किस प्रकार 'सूचना पर व्यय' तथा 'प्रवासन पर व्यय', मानव पूँजी निर्माण के स्रोत के रूप में कार्य करते हैं ? 4
- अथवा**
- (B) कृषकों को अधिकाधिक संस्थागत ऋण प्रदान करने के किन्हीं दो उद्देश्यों की व्याख्या कीजिए। 4
31. "1947 के उपरांत भारत व पाकिस्तान ने अपने विकास पथ के लिए एकसमान विकास रणनीतियों को अपनाया था।" क्या आप दिए गए कथन से सहमत हैं ? अपने उत्तर के समर्थन में वैध कारण दीजिए। 4
32. "ब्रिटिश शासन के दौरान, देश की 85% जनसंख्या का मुख्य व्यवसाय होने के बावजूद, कृषि क्षेत्र में ठहराव का अनुभव होता रहा।" ऐसे किन्हीं दो कारणों की संक्षेप में व्याख्या कीजिए, जिनके कारण भारतीय कृषि ने, स्वतंत्रता की पूर्व संध्या पर अपने पिछड़ेपन को प्रदर्शित किया। 4
33. (A) (i) भारत में बागवानी ने ग्रामीण विकास को किस प्रकार प्रोत्साहित किया है ? 3
(ii) पर्यावरण के किन्हीं दो कार्यों की संक्षेप में व्याख्या कीजिए। 3
- अथवा**
- (B) (i) 'हरित क्रांति' और 'स्वर्णिम क्रांति' में अंतर स्पष्ट कीजिए। 3
(ii) जैविक खेती की किन्हीं तीन समस्याओं का उल्लेख कीजिए। 3
34. निम्नलिखित गद्य का ध्यान से अध्ययन कीजिए तथा गद्य एवं सामान्य ज्ञान के आधार पर दिए गए प्रश्नों के उत्तर दीजिए :
- अप्रैल 2022 में, वस्तु व सेवा कर संग्रह लगभग 20% बढ़कर प्रायः ₹ 1.7 लाख करोड़ के नए उच्चतम स्तर पर पहुँच गया है। यह अधिक आर्थिक गतिविधियों तथा नियमों के सख्ती से पालन की ओर इंगित करता है। प्रथम बार सकल GST संग्रह ₹ 1.5 लाख करोड़ का आँकड़ा पार कर गया है। मार्च 2022 के माह में ई-वे बिलों की कुल संख्या 7.7 करोड़ थी, जो फरवरी 2022 के माह में उत्पन्न 6.8 करोड़ के ई-वे बिलों की संख्या से 13% अधिक है। यह तीव्र गति से व्यावसायिक गतिविधियों की वृद्धि को दर्शाता है।
- अप्रैल 2022 के दौरान 1.1 करोड़ GST रिटर्न भरे गए। अप्रैल 2022 में, GSTR-3B रिटर्न भरने का प्रतिशत 84.7% था, जबकि अप्रैल 2021 में यह 78.3% था।
- (i) "वस्तु व सेवा कर (GST) एक व्यापक अप्रत्यक्ष कर है।" विवेचना कीजिए। 3
- (ii) "राजस्व में वृद्धि, तीव्र गति से व्यावसायिक गतिविधियों में उछाल को दर्शाता है।" दिए गए कथन को मान्य स्पष्टीकरण द्वारा सिद्ध कीजिए। 3



30. (A) Explain how 'expenditure on information' and 'expenditure on migration' acts as a source of human capital formation. 4
- OR**
- (B) Explain any two objectives behind providing more and more institutional credit to farmers. 4
31. "Post-1947 India and Pakistan adopted similar developmental strategies for their respective development paths." Do you agree with the given statement? Give valid reason for your answer. 4
32. "Despite being the main occupation of about 85% of the country's population during British rule, agricultural sector continued to experience stagnation."
Briefly explain any two reasons responsible for the backwardness of Indian agriculture on the eve of independence. 4
33. (A) (i) How did horticulture encourage rural development in India? 3
(ii) Explain briefly any two functions of the environment. 3
- OR**
- (B) (i) Distinguish between 'Green Revolution' and 'Golden Revolution'. 3
(ii) State any three limitations of organic farming. 3
34. Read the following text carefully and answer the given questions on the basis of the same and common understanding :
Goods and Service Tax collections rose almost 20% in April 2022 to reach a fresh high of nearly ₹ 1.7 lakh crore, pointing to a continued buoyancy in revenue due to higher economic activity and tighter regulation. For the first time gross GST collection has crossed the ₹ 1.5 lakh crore mark. Total number of e-way bills generated in the month of March 2022 was 7.7 crore, which is 13% higher than 6.8 crore e-way bills generated in the month of February 2022, which reflects recovery of business activity at a faster pace.
During April 2022, 1.1 crore GST returns were filed. The filing percentage for GSTR-3B in April 2022 was 84.7% as compared to 78.3% in April 2021.
- (i) "Goods and Services Tax (GST) is a comprehensive indirect tax." Elucidate. 3
(ii) "Buoyancy in revenue reflected recovery of business activities at a faster pace." Justify the given statement with a valid explanation. 3

